





۱ نمره

۹ پسر عزیزم سوالات مربوط به ساعت را جواب بده.

ده دقیقه به ساعت-----مانده است
۵۰ دقیقه از ساعت-----گذشته است



جزوه سیپی

تاریخ: ۱۴۰۱/۱۰/۱۱ آموزگار: خانم صادقی موفق باشید	بسم الله الرحمن الرحيم آموزش و پرورش استان بوشهر - شهرستان دیلم دبستان: سرای دانش (پسرانه)	نام و نام خانوادگی: آزمون ریاضی، فصلهای ۳-۲-۱ پسران پرتلاشم با آرامش بنویسید
$۲۳-۳۲-۲۲-۳۳$	۱ پسرم با رقم های ۲ و ۳ هر چند میتواند عدد دورقمی بنویس.	
	۲ پسر کوشای من یک دایره و مربع با شابلون بکش و بعد خط تقارن آنها را مشخص کن.	
	۳ گل پسرم ضلع و گوشه هر شکل را مشخص کن و بنویس. (مجموعه دروس-56) ضلع: ۴ گوشه: ۴	 ضلع: ۶ گوشه: ۶
$۱۰+۲۰+۲=۳۲$	$۱۰+۲۰+۱۰+۳=۴۳$	$۷+۷=۱۴$ $۹+۳=۱۲$
۴ پسرم به جمع و تفریق ها با دقت نگاه کن و بعد حاصل آنها را بنویس.		
۵ الگوی زیر را ادامه بده و به حروف بنویس. ۹۰ نود - ۸۰ هشتاد - ۷۰ هفتاد - ۶۰ شصت - ۵۰ پنجاه - ۴۰ چهل - ۳۰ - ۲۰ - ۱۰		
	۶ دلبندم نوبت به جمع و تفریق تقریبی رسیده، با دقت جواب آنها را بنویس. $\begin{array}{r} ۷۱ \\ + \\ ۲۲ \\ \hline \end{array}$ $\begin{array}{r} ۸۱ \\ - \\ ۲۸ \\ \hline \end{array}$	
۷ پسرگلم تفاوت و شباهت شکل ها را به طور کامل بنویس. تفاوت: مربع ضلع های برابر ولی مستطیل ضلع های نابرابر دارد. شباهت: هر دو شکل ضلع و گوشه برابر دارند.		

۸ گل پسر جمع و تفریق فرآیندی را بنویس.

$$\begin{array}{r} + \\ \hline 22 \\ 12 \\ \hline 32 \\ + \\ 4 \\ \hline 36 \end{array}$$

$$\begin{array}{r} - \\ \hline 32 \\ 12 \\ \hline 20 \\ - \\ \hline 12 \end{array}$$

۹ پسر عزیزم سوالات مربوط به ساعت را جواب بده.

ده دقیقه به ساعت ۲:۰۰ مانده است . ۵۰ دقیقه از ساعت ۱:۰۰ گذشته است



سیتی جاز